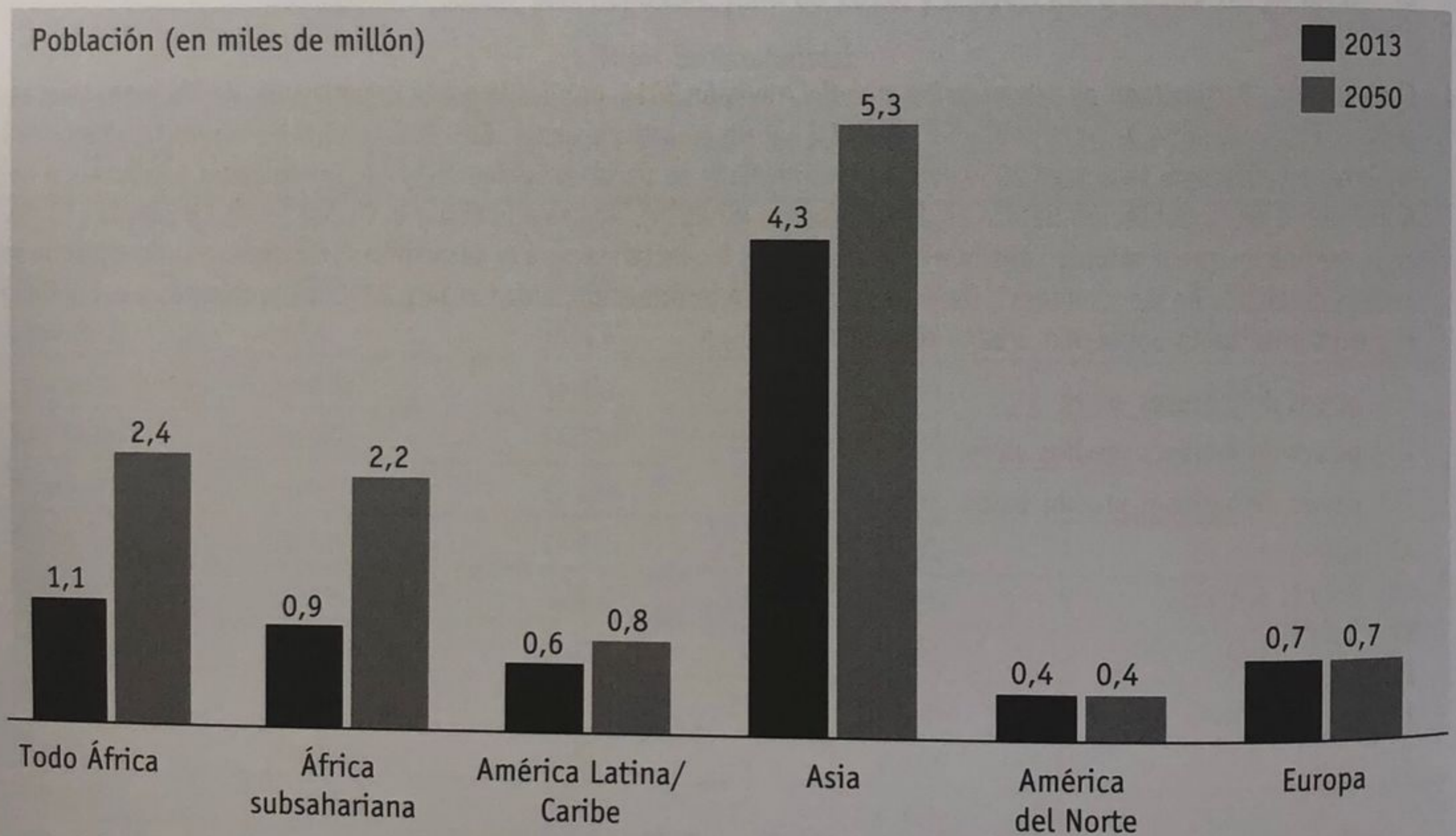


5. En la mayor parte del mundo, la vida urbana se asocia a niveles educacionales más elevados, mejor salud, acceso más expedito a servicios sociales y mayores oportunidades de participación política y cultural. Esto se vincula con
- menores niveles de violencia en las ciudades que en las zonas rurales.
 - concentración de los recursos económicos en las ciudades.
 - mayores niveles de contaminación ambiental en las zonas rurales que en las ciudades.
 - concentración de las enfermedades crónicas en las zonas rurales.
 - bajos niveles de enfermedades infecciosas en las ciudades.
6. A pesar de la ventaja comparativa que tiene la vida urbana respecto de la rural en la mayor parte del mundo, en la actualidad una proporción significativa de la población mundial que vive en la pobreza habita en zonas urbanas. Esto obedece al problema de
- congestión urbana.
 - contaminación urbana.
 - excesivo consumismo que hay en las ciudades.
 - grandes cantidades de basura producida en las ciudades.
 - escasa planificación del crecimiento urbano.

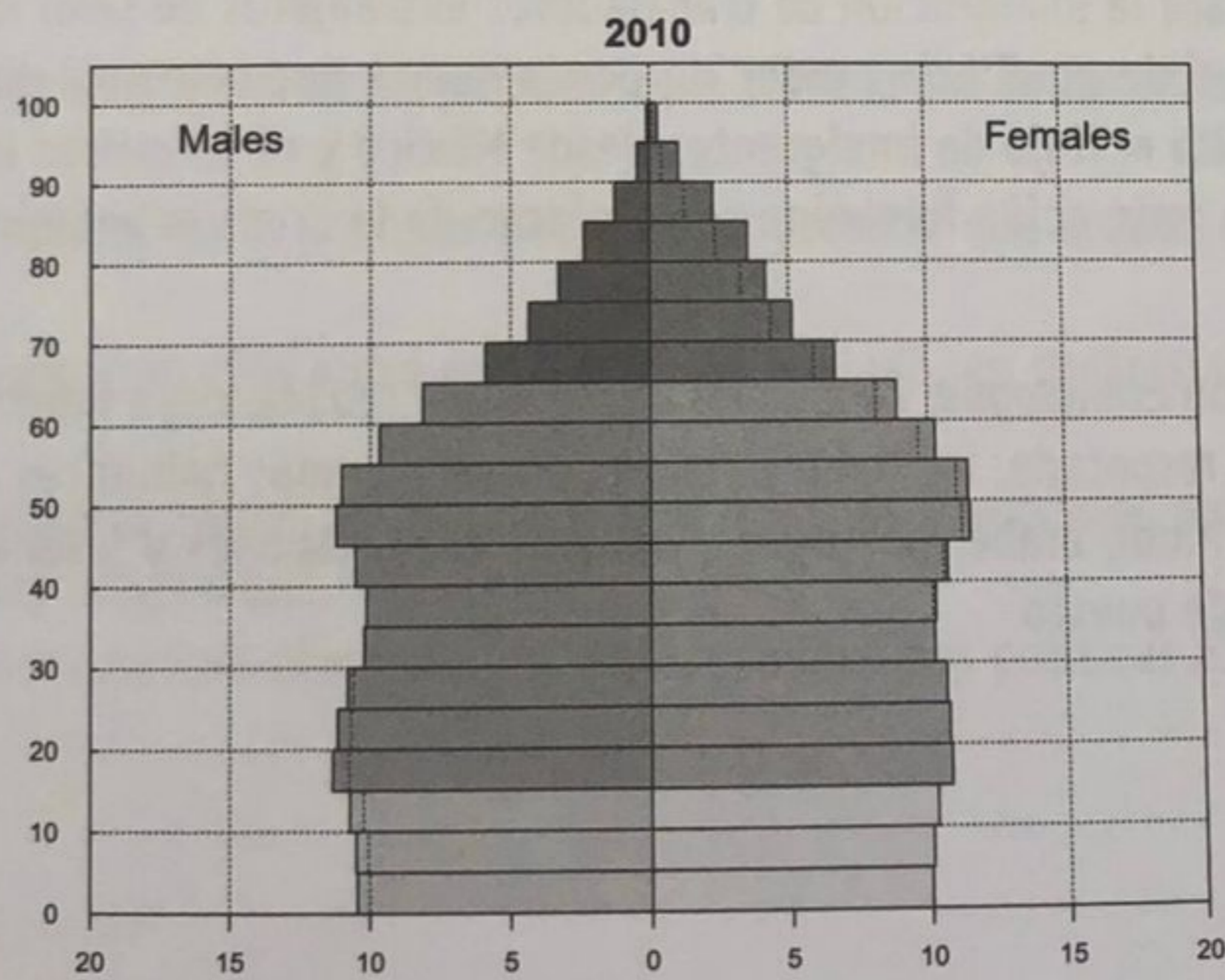
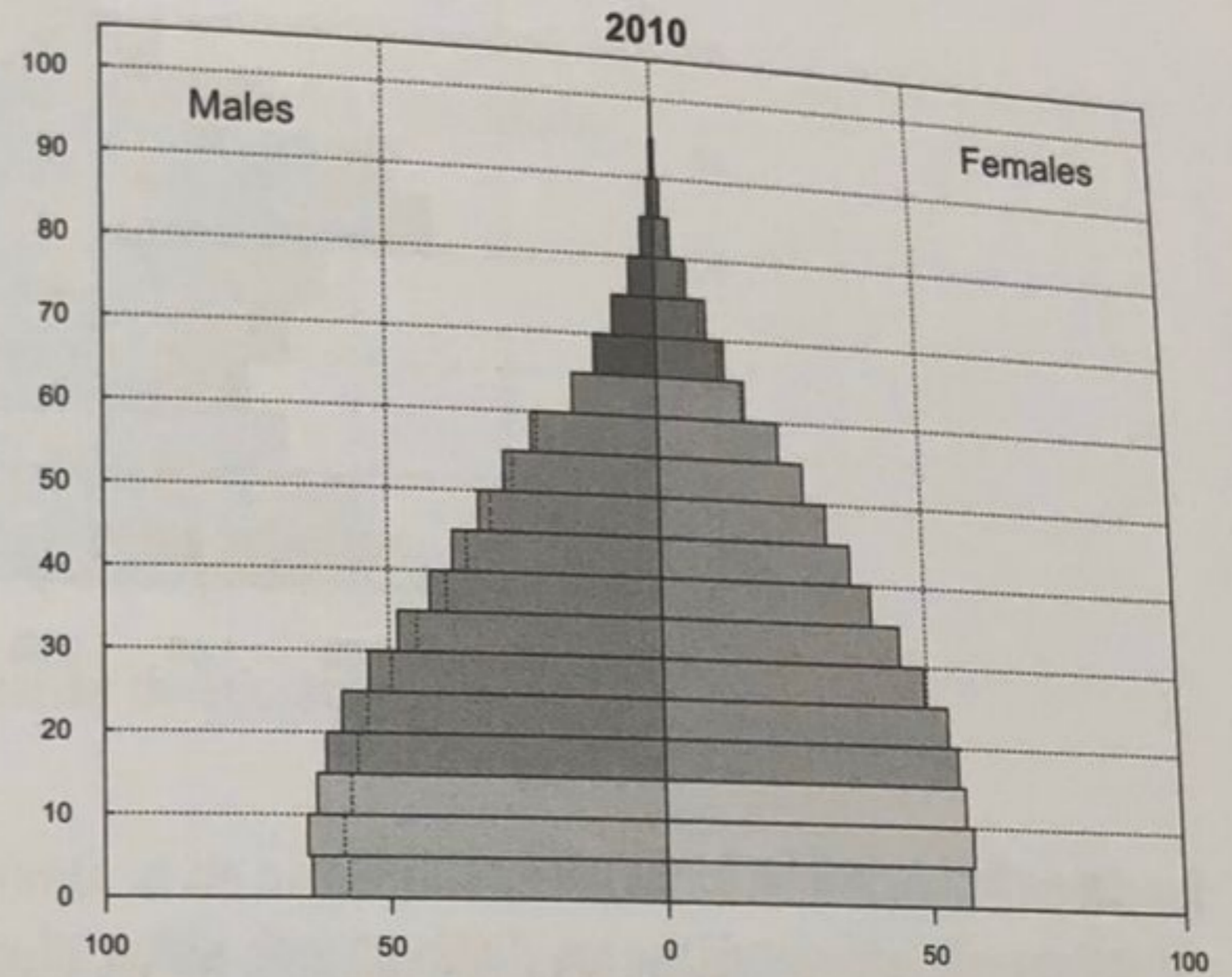
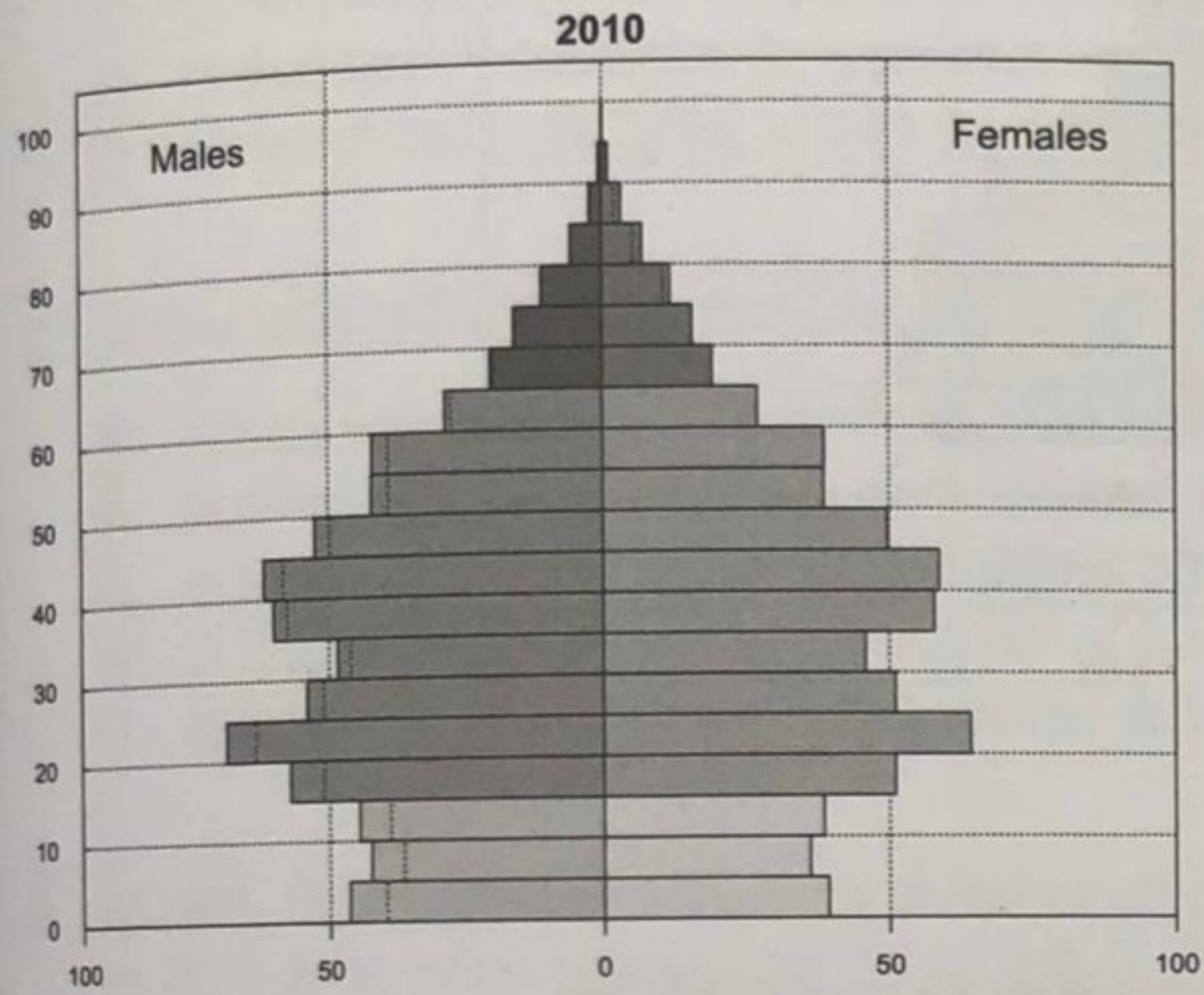
Analiza el siguiente gráfico y responde la pregunta 7.



Fuente: Carl Haub y Toshiko Kaneda, *Cuadro de datos de la población mundial 2013*
Population Reference Bureau, Washington, DC, 2013.

Analiza las siguientes pirámides de población y responde la pregunta 8.

Población por grupos de edad y sexo, 2010
(Números absolutos: miles o millones de personas)



Fuente: Organización de las Naciones Unidas. Departamento de Asuntos Económicos y Sociales. División de Población. (2013).
World Population Prospects: The 2012 Revision, Volume II: Demographic Profiles.

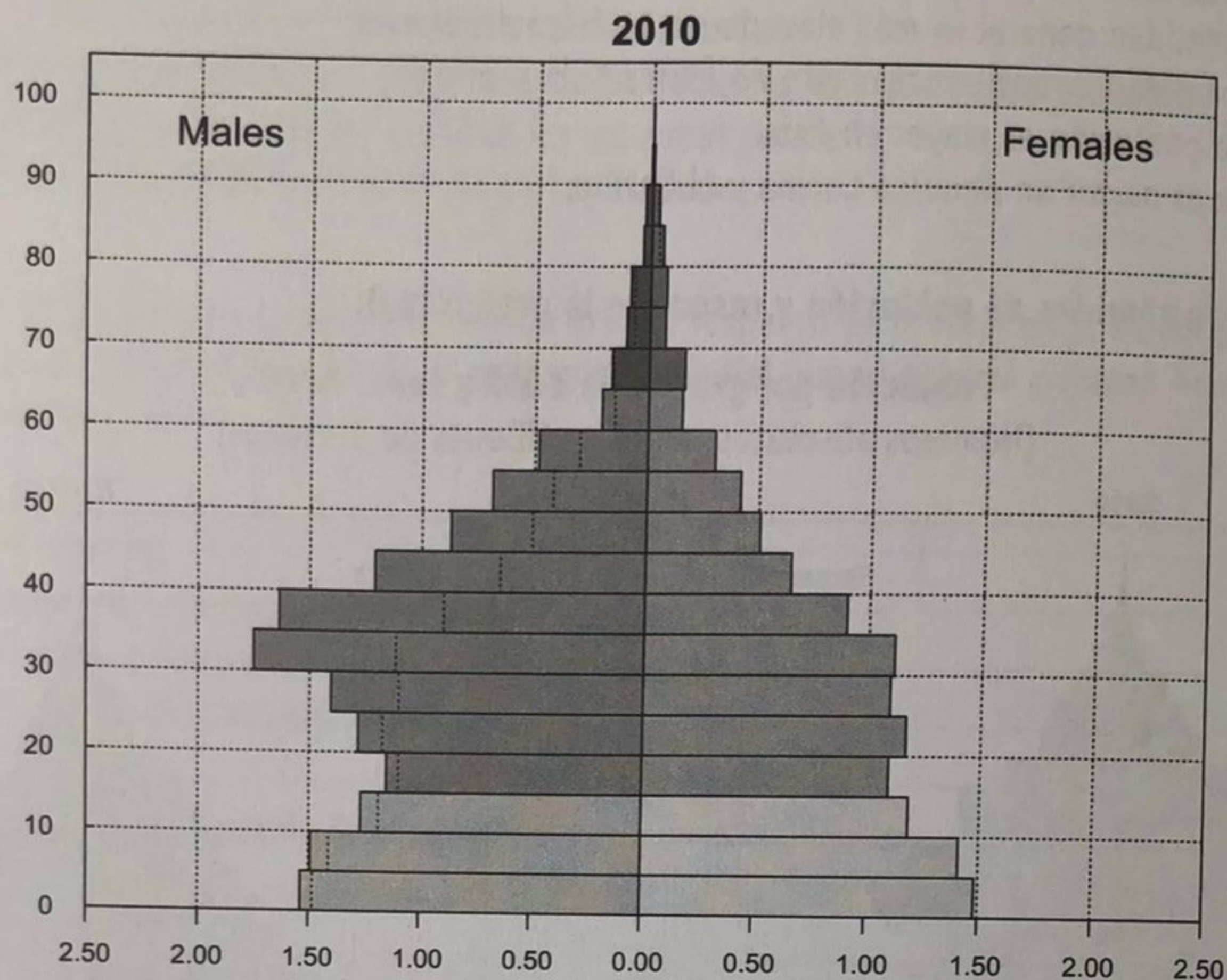
8. Las pirámides de población corresponden a los tres países más poblados del planeta en 2010. En orden de izquierda a derecha, estos gráficos representan la estructura poblacional de

- A) Japón - India - China.
- B) Japón - Indonesia - China.
- C) China - India - Estados Unidos.
- D) Rusia - China - Indonesia.
- E) Estados Unidos - China - Rusia.

1. El comercio de bienes, las transacciones financieras y el intercambio cultural entre sociedades que habitan distintas regiones del planeta son un fenómeno de larga data en la historia de la humanidad. Durante la era de las exploraciones, en los siglos XIV a XVII, se establecieron contactos entre los pueblos europeos, americanos, africanos y asiáticos que unieron al mundo. Más adelante, a lo largo del siglo XIX, el comercio internacional liderado por las principales potencias europeas, entre las que sobresalía Gran Bretaña, produjo una unificación aún mayor. Lo que distingue a la globalización actual de esos procesos anteriores es
- A) el predominio de políticas económicas liberales.
 - B) la ausencia de conflictos bélicos en el continente europeo.
 - C) la instantaneidad en el intercambio de información.
 - D) la disminución dramática de la pobreza en el mundo.
 - E) la incorporación de China, una de las principales potencias económicas mundiales.
2. La dimensión cultural de la globalización se aprecia en
- A) el funcionamiento de la Corte Penal Internacional.
 - B) la difusión de ideas religiosas, como algunas versiones del islam.
 - C) el acceso que tienen las personas a bienes producidos en otras regiones.
 - D) el colapso de los gobiernos comunistas en Europa.
 - E) la extensión a la mayor parte del planeta de los regímenes democráticos liberales.
3. En 1990, 154 millones de individuos vivían en un país diferente al de origen; 174 millones en 2000, y 220 millones en 2010. Estas cifras representan 2,9 %, 2,8 % y 3,2 % de la población mundial, respectivamente. En contraste, durante el período previo a la Primera Guerra Mundial, la proporción era 8,5 %. Lo anterior demuestra que
- A) el flujo de bienes, capitales financieros y personas que tiene lugar en la actualidad es menor al que ocurría a comienzos del siglo XX.
 - B) el desarrollo de las comunicaciones por Internet hace innecesario que las personas se trasladen a vivir a otros países.
 - C) las condiciones de trabajo y de vida entre países se han igualado, en contraste con lo que ocurría a comienzos del siglo XX.
 - D) en la actualidad las personas tienen un mayor acceso a bienes y servicios producidos en otros países, por lo que no deben viajar para adquirirlos.
 - E) en la actualidad los países no han otorgado las mismas facilidades políticas al movimiento de personas que al de bienes y capitales.

Analiza la siguiente pirámide de población y responde la pregunta 9.

Población por grupos de edad y sexo, 2010
(Números absolutos: miles o millones de personas)



9. La pirámide poblacional corresponde a

- A) Alemania, y sobresale la inmigración de trabajadores extranjeros de sexo masculino.
- B) Arabia Saudita, y destaca la inmigración de trabajadores extranjeros de sexo masculino.
- C) Afganistán, y muestra el desequilibrio producido por la guerra que comenzó en 2001.
- D) Estados Unidos, y resalta el flujo de inmigrantes desde México y otros países latinoamericanos.
- E) España, y se aprecia la emigración femenina como efecto de la crisis económica.

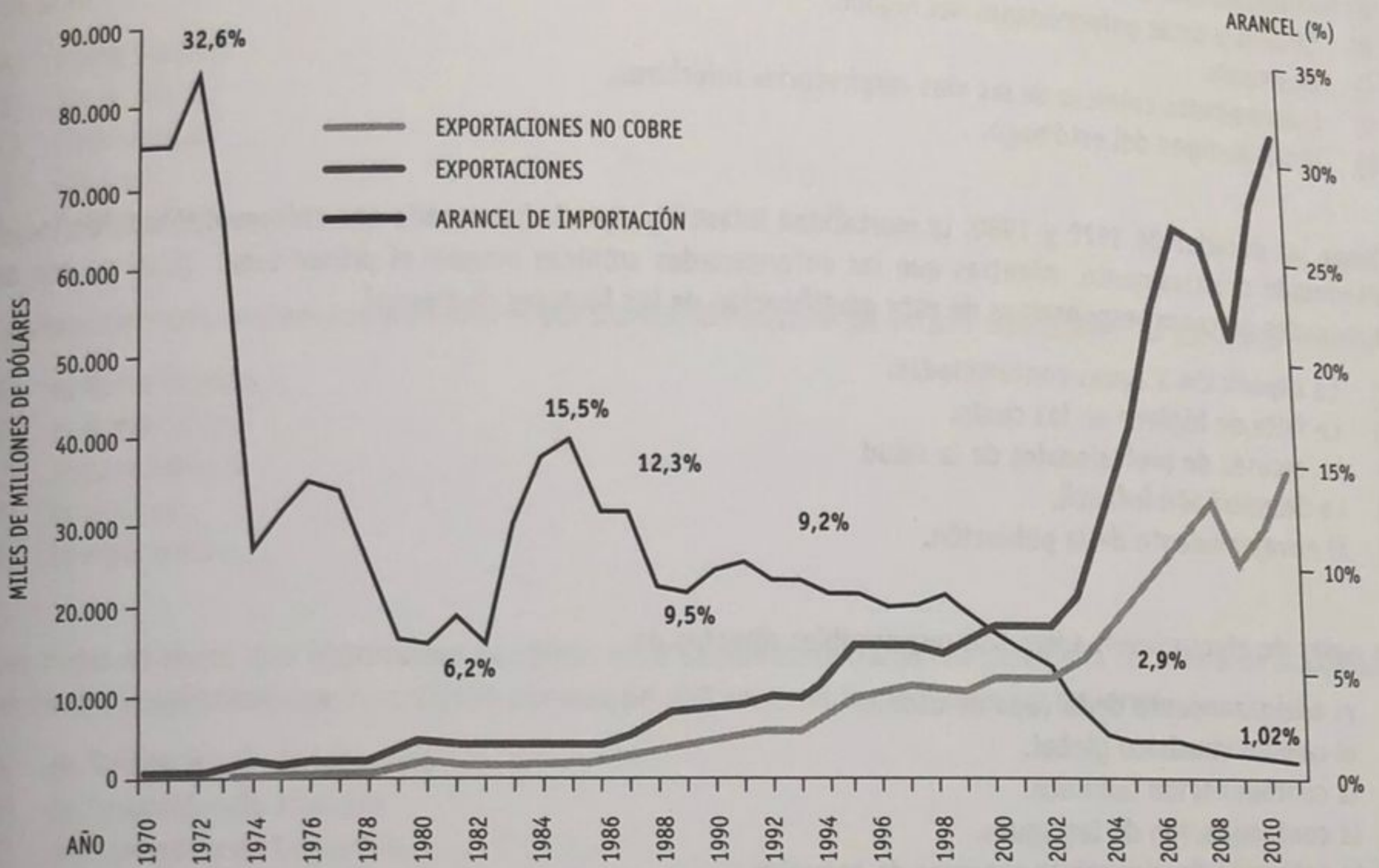
10. De acuerdo con la publicación *Ethnologue: Languages of the World* (2014), cuya información sobre los idiomas que se hablan en el mundo es muy respetada, las lenguas que cuentan con más hablantes nativos, en orden descendente, son chino, español, inglés, hindi, árabe, portugués, bengalí, ruso, japonés y javanés. Sin embargo, al contabilizar el total de hablantes, sube de puesto

- A) el español.
- B) el inglés.
- C) el portugués.
- D) el ruso.
- E) el japonés.

7. Los avances en las tecnologías de información y comunicación ocurridos, en particular desde la década de 1990, han favorecido el flujo de
- I. conocimientos.
 - II. bienes y servicios.
 - III. capitales financieros.
- A) Solo I
 - B) Solo III
 - C) Solo I y II
 - D) Solo I y III
 - E) I, II y III
8. Mientras que en 2007 el monto de los intercambios económicos internacionales alcanzó la cifra de 29,3 billones de dólares, en 2009 ese monto fue de 17 billones de dólares. Esta situación se debe a que
- A) a lo largo del período 1990-2010 la tendencia del intercambio económico internacional ha sido descendente.
 - B) las fluctuaciones de esta magnitud han sido una de las características normales del intercambio económico internacional a lo largo del período 1990-2010.
 - C) los conflictos bélicos, en particular las guerras en Irak y en Afganistán, afectaron dramáticamente el comercio internacional.
 - D) hubo una crisis económica internacional que afectó, sobre todo, a los países desarrollados.
 - E) en 2008 la economía China, la segunda más importante del planeta, entró en recesión, es decir, mostró tasas de crecimiento negativas.
9. Las cadenas de valor integradas son una característica de
- A) los flujos de conocimiento en la sociedad de la información.
 - B) la producción industrial por las mayores empresas mundiales.
 - C) el movimiento de capitales financieros entre distintas regiones.
 - D) el intercambio de bienes primarios entre diferentes regiones.
 - E) la educación y capacitación permanente de la fuerza de trabajo.
10. Es un tipo de acuerdo económico en que los Estados participantes establecen la libre circulación de bienes, servicios, capitales y personas entre ellos y adoptan políticas arancelarias comunes frente a terceros países. ¿A qué tipo de acuerdo económico se refiere el párrafo?
- A) Tratado de libre comercio.
 - B) Tratado de preferencias arancelarias.
 - C) Mercado común.
 - D) Asociación económica.
 - E) Unión económica.

4. Entre 1944 y 1947, las Naciones Unidas crearon una serie de instituciones que tenían por misión el establecimiento y sostén de un nuevo orden político y económico internacional. Entre ellas, estuvieron
- I. el Banco Mundial (BM).
 - II. el Fondo Monetario Internacional (FMI).
 - III. la Organización Mundial del Comercio (OMC).
- A) Solo I
 - B) Solo II
 - C) Solo I y II
 - D) Solo II y III
 - E) I, II y III
5. La decisión unilateral que tomó el gobierno de Estados Unidos en 1971 de abandonar la convertibilidad del dólar en oro tuvo como consecuencia
- A) el fin del sistema de regulación monetaria y financiera establecido en 1944.
 - B) la disminución del monto del flujo de capitales financieros entre países.
 - C) el regreso a las políticas de proteccionismo comercial y financiero que habían existido en el período de entreguerras.
 - D) la pérdida del papel del dólar de moneda de referencia internacional.
 - E) el auge de las economías asiáticas, que contaron con mayores facilidades para vender sus productos en el mercado estadounidense.
6. Entre las principales políticas neoliberales que adoptaron los Estados a partir de la década de 1980, se encuentra
- A) democratización de los regímenes políticos.
 - B) alza de los aranceles para favorecer el comercio internacional.
 - C) aumento del gasto público en educación, salud y seguridad social.
 - D) desregulación del movimiento de capitales financieros.
 - E) fijación por el Estado de las tasas de interés y de las tasas de cambio entre monedas.

Arancel de importación y valor de las exportaciones, 1970-2011
(Porcentaje y miles de millones de dólares)



Bunster Betteley, J. (2012). *Chile: Política comercial y comercio exterior*.
Ministerio de Relaciones Exteriores, Dirección General de Relaciones Económicas Internacionales. (Adaptación).

4. Según esta información, ¿qué desafío(s) presenta el comercio exterior chileno?

- I. Disminuir sus aranceles de importación.
 - II. Reducir su dependencia de las exportaciones de cobre.
 - III. Revertir la tendencia a la baja de sus exportaciones no mineras.
- A) Solo II
 - B) Solo III
 - C) Solo I y II
 - D) Solo I y III
 - E) I, II y III

5. ¿Qué desafíos presenta para Chile su inserción en un mundo cada vez más globalizado?

- I. Pérdida del patriotismo y de la nacionalidad.
 - II. Contaminación ambiental y cambio climático global.
 - III. Nuevos riesgos para la salud, epidemias y pandemias.
- A) Solo I
 - B) Solo II
 - C) Solo I y II
 - D) Solo II y III
 - E) I, II y III

1. Respecto a la gran minería del cobre chilena, es correcto afirmar que
- A) fue privatizada por el régimen militar en la década de 1980.
 - B) en 1991 la mayor parte de la producción era estatal, pero a fines de esa década estaba en manos de empresas privadas.
 - C) durante la década de 1990 el Estado hizo inversiones que permitieron que la producción de la empresa estatal Codelco Chile sobrepasara a la de las empresas privadas.
 - D) en 2012 la producción correspondía exclusivamente a empresas privadas transnacionales.
 - E) en 2012 la mayor parte de la producción correspondía a la suma de lo explotado por la empresa estatal Codelco Chile y lo explotado por empresarios chilenos.
2. Los gobiernos chilenos han implementado políticas de diversificación de las exportaciones, brindando apoyo a la agroindustria, a la industria salmonera, a la forestal, entre otras. El propósito ha sido disminuir la dependencia que ha tenido la economía nacional de la venta de cobre. En 2013, ¿alrededor de qué porcentaje del total de las exportaciones correspondieron a cobre?
- A) 12 %.
 - B) 22 %.
 - C) 32 %.
 - D) 52 %.
 - E) 72 %.
3. Según datos de la Organización Mundial del Comercio, en 2012 cerca del 8 % de las importaciones chilenas correspondieron a productos agropecuarios (fundamentalmente, alimentos); alrededor de 24,5 %, a combustibles fósiles y sus derivados, y aproximadamente de 67,5 % a productos manufacturados. Los principales países y bloques de origen de estas importaciones fueron, en orden descendente, Estados Unidos, China, Unión Europea, Mercosur y Corea del Sur. De acuerdo con esta información, ¿cuál de las siguientes asociaciones es correcta?
- I. Estados Unidos - productos manufacturados.
 - II. Mercosur - combustibles fósiles.
 - III. China - combustibles fósiles.
- A) Solo I
 - B) Solo II
 - C) Solo I y II
 - D) Solo I y III
 - E) I, II y III

6. La Encuesta Nacional de Salud realizada por el gobierno en 2009-2010 determinó que el 39 % de la población chilena presenta sobrepeso y el 25 %, obesidad. ¿Con cuál de las diez principales causas de muerte se relaciona esta situación de manera más directa?
- A) Enfermedades isquémicas del corazón.
 - B) Cirrosis y otras enfermedades del hígado.
 - C) Neumonía.
 - D) Enfermedades crónicas de las vías respiratorias inferiores.
 - E) Tumor maligno del estómago.
7. Desde las décadas de 1970 y 1980, la mortalidad infantil y aquella provocada por enfermedades infecciosas han disminuido drásticamente, mientras que las enfermedades crónicas ocupan el primer lugar. ¿Cuál es uno de los principales procesos responsables de esta modificación de los factores de riesgo?
- A) La exposición a aguas contaminadas.
 - B) La falta de higiene en las casas.
 - C) La escasez de profesionales de la salud.
 - D) La desnutrición infantil.
 - E) El envejecimiento de la población.
8. Los gases de efecto invernadero son responsables directos de
- A) el adelgazamiento de la capa de ozono.
 - B) el cambio climático global.
 - C) la contaminación lumínica.
 - D) la contaminación de las aguas.
 - E) la extinción de numerosas especies de animales.
9. El principal gas de efecto invernadero es el dióxido de carbono (CO₂). ¿Cuál es la fuente de la mayor parte del CO₂?
- A) Plantas de energía nuclear.
 - B) Plantas de energía hidroeléctrica.
 - C) Utilización de aerosoles.
 - D) Empleo de combustibles fósiles.
 - E) Uso de fertilizantes en la agricultura.
10. Durante el período 1980-2011, el consumo mundial de energía creció mucho más rápido en las economías emergentes que en los países desarrollados, aunque estos últimos muestran niveles mucho más altos al estudiar el consumo de energía per cápita. Al respecto, ¿qué consecuencia(s) ha provocado este incremento sostenido en el consumo mundial de energía?
- I. El aumento en la generación de electricidad.
 - II. El incremento de los gases de efecto invernadero.
 - III. El acceso del 90 % de la población mundial a fuentes de energía eléctrica.
- A) Solo I
 - B) Solo II
 - C) Solo I y II
 - D) Solo II y III
 - E) I, II y III